



## COĞRAFYA BÖLGESEL YARIŞMASI CEVAP ANAHTARI

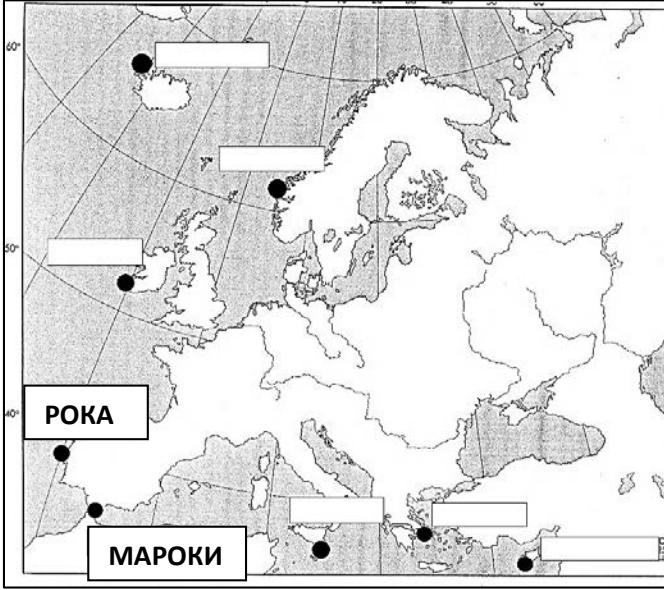
VIII SINIFLAR İÇİN, 2022/2023 Eğitim Yılı

Toplam 100 puan.

Puan	Yer

1. Haritada sunulan konumlardan Avrupa kıtasının en batı ve en güney noktalarını gösteren iki tanesini seçin ve uygun alana adlarını yazın.

2x1= 2



2. Burgaz ile Londra arasında bir gemide yolculuk ettiğinizi hayal edin. Yolculuğunuz sırasında geçmeniz gereken yerleri tamamlayın.


8x1=8

Karadeniz kıyısındaki Burgaz limanından başlayıp güneye doğru yelken açıp İstanbul şehrinin üzerinde bulunduğu Boğaziçi boğazını geçtikten sonra Marmara Denizi'ne girip Çanakkale Boğazı'ndan geçiyorsunuz. Ardından Ege Denizi'ne giriyorsunuz, Yunanistan'ın en güneydeki yarımadası olan **Mora (Peloponez) Yarımadası** ile Yunanistan'ın en büyük adası Girit arasından geçip Akdeniz'e giriyorsunuz. Batıya yelken açıyorsunuz, **Cebelitarık** Boğazı'ndan geçiyorsunuz ve şimdi rotanızı Atlantik Okyanusu'nu geçerek kuzeye çeviriyorsunuz. İber Yarımadası'nın kuzeyinden geçiyorsunuz, ardından La Manş Kanalı ve **Dover** Boğazı'nı geçerek **Thames** Nehri'ne giriyor ve Londra'ya varıyorsunuz..

3. Avrupa haritasına bakın ve verilen yeryüzü şekillerinin numaralarını haritadaki boş alanlara yazın. **Dikkatli olun, haritada istenenden daha fazla alan gösteriliyor. Her terimi haritada tek bir yere yazın!**

8x1=8

- 1- Haliç 2-Yiland 3-Meseta 4-Etna  
5-Çanakkale 6-delta 7-Aleç 8-Kuzey Burnu



4. Çizgiye, verilen oviden geçen en büyük nehri yazın

6/ \_\_\_

Hazar ovası **Volga**

Panoniyen Ovası **Tuna**

Endülüs **Guadalquivir**

Trakya Ovası **Meriç**

Lombardiya **Po**

Aragon **Ebrosu**

5. Struma nehri hangi iki ülkenin içinden geçer? **2x1=2**

**Bulgaristan ve Yunanistan**

6. Balkan Yarımadası'ndaki hangi üç ülkenin denize çıkış yolu yoktur? **3x1=3**

**Sırbistan, Makedonya ve Kosova.**

7. Bosna Hersek'te sayıca en fazla olan üç millet:

**3x1=3**

**Boşnaklar, Sırp ve Hırvatlar.**

8. Atlantik Okyanusu'ndaki hangi adalar Portekiz ve İspanya'ya aittir?

**3x1=3**

**Madeira, Yeşil Burun Adaları ve Kanarya Adaları.**

9. Güney Avrupa bölgesinden en düşük rakımda bulunan iki başkenti daire içine alın?

**2x1=2**

Napoli, Madrid, Durres, **Atina**, Split, **Lizbon**, Zagreb

10. Güney Avrupa bölgesindeki hangi üç ülke düzen bakımından cumhuriyet DEĞİLDİR?

**3x1=3**

**İspanya, Andorra ve Vatikan.**

11. Alanları ve bitki ile hayvan türlerini uygun iklim – bitki örtüsü alanına yerleştirin.

Eflak Ovası, Nova Zemya, Maquia, Brittany, Tayga, Sardinya, Tundra.

**7x1=7**

Subpolar **Nova Zemya, Tundra.**

Atlantik **Britanny.**

Kitasal **Evlak Ovası, Tayga.**

Sıbtropikal **Macchia, Sardunya.**

12. Dağları ve ovaları/vadileri uzandıkları ilgili ülkelere göre düzenleyin.

**6x1=6**

Rila, Pind, Koritnik, Metohiya, Celyska, Pohorye.

Yunanistan **Pindus**

Bulgaristan **Rila**

Kosova **Metohiya**

Slovenya **Celyska, Pohorye.**

Sırbistan **Koritnik**

13. Güney Avrupa bölgesinden hangi iki ülkedeki milli parklar, ülkelerin toplam yüzölçümünün %9,3'ü veya %7,9'u gibi bir oranla en geniş alanı kaplamaktadır?

**2x1=2**

**Kosova ve Karadağ**

14. Bosna-Hersek'te Karadeniz Havzasına ait üç nehir sıralayın:

**3x1=3**

**Sava, Vrbas, Bosna, Una, Drina.**

15. Turistik yerleri ait oldukları ülkelere göre işaretleyin.

**10x0,5=5**

Krka, Euboea, Bled, Tivat, Zlatibor, Garda, Koper, Floransa, Opatija, Parga.

Yunanistan Euboea, **Parga.**

İtalya Garda, **Floransa.**

Karadağ **Tivat.**

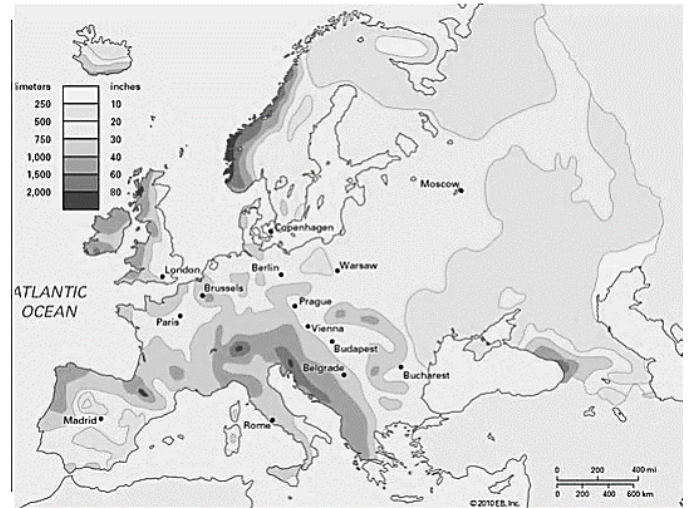
Hırvatistan **Krka, Opatiya.**

Slovenya **Bled, Koper.**

Sırbistan **Zlatibor.**

16. Avrupa'daki yağış miktarını gösteren haritaya bakın ve az miktarda yağış alan üç bölgeyi yuvarlak içine alın?

**3x1=3**

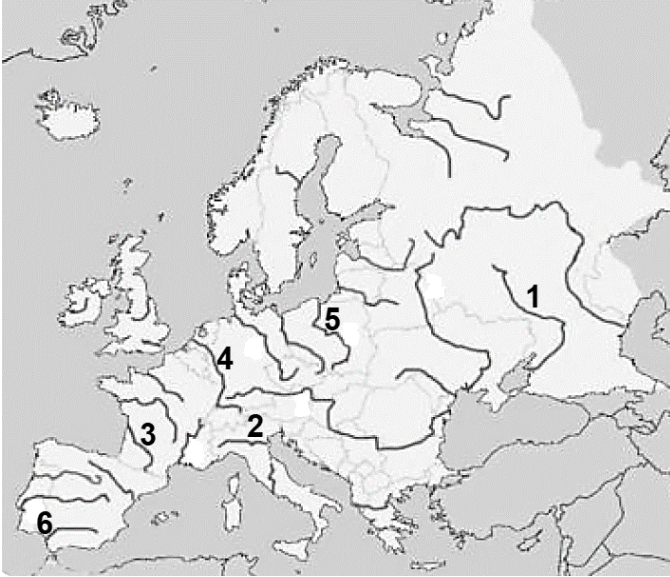


a) İzlanda b) **Aragon** c) Dinara d) **Kırım** e) İrlanda f) **Kola** e) Brittany h) Pireneler

17. Hazar Gölü'nden Karadeniz'e yelken açmak isterseniz hangi iki nehri ve bir denizi geçmelisiniz? **3x1=3**

**Volga, Don ve Azak Denizi.**

18. Verilen sayıdan sonra, haritada işaretlenen ilgili nehrin adını yazın. **6x1=6**



**1 Don 2 Po 3 Garonne/Gironde**

**4 Ren 5 Vistül 6 Guadalquivir**

19. Belirtilen her ifadeden sonra daire içine alın D (doğru) veya Y (yanlış). **8x1=8**

Avrupa nüfusu yüksek bir doğal artışa sahiptir.	D	<u>Y</u>
Avrupa'nın en yoğun nüfuslu bölgelerinden biri Po Nehri çevresinde uzanır.	<u>D</u>	Y
Avrupa'nın en seyrek nüfuslu bölgelerinden biri Saar bölgesidir.	D	<u>Y</u>
Basklar, Rumen halk grubuna aittir.	D	<u>Y</u>
Fin dili Cermen dil grubuna aittir.	D	<u>Y</u>
Katalanca İspanya'da konuşulur.	<u>D</u>	Y
Protestanlar çoğunlukla Avrupa'nın güney kesimlerinde temsil edilmektedir.	D	<u>Y</u>
Sloven dili, Güney Slav grubuna aittir.	<u>D</u>	Y

20. Güney Avrupa ülkelerini büyükten küçüğe doğru sıralayın.

**6/6**

İtalya, Sırbistan, İspanya, Slovenya, Andorra, Vatikan.

**İspanya, İtalya, Sırbistan, Slovenya, Andorra, Vatikan.**

21. Verilen coğrafi terimleri ait oldukları ülkeye göre sırala.

**12x0,5=6**

Sumadia, Istria, Tuzla, Ebro, Voyvodina, Filibe, Korint Kanalı, Gyerdap Boğazı, Golo Brdo, Kranyska Gora, Neretva, Lombardiya.

Sırbistan **Sumadia, Voyvodina, Gyerdap vadisi**

Bulgaristan **Plovdiv**

Yunanistan **Korint Kanalı**

Hırvatistan **Istria**

Slovenya **Kranyska Gora**

Bosna Hersek **Tuzla, Neretva**

İtalya **Lombardiya**

İspanya **Ebro**

Kosova **Golo Brdo**

22. Hırvatistan'ın komşularının isimlerini haritaya yazın?

**5x1=5**

**Slovenya, Macaristan, Sırbistan, BH, Karadağ**

