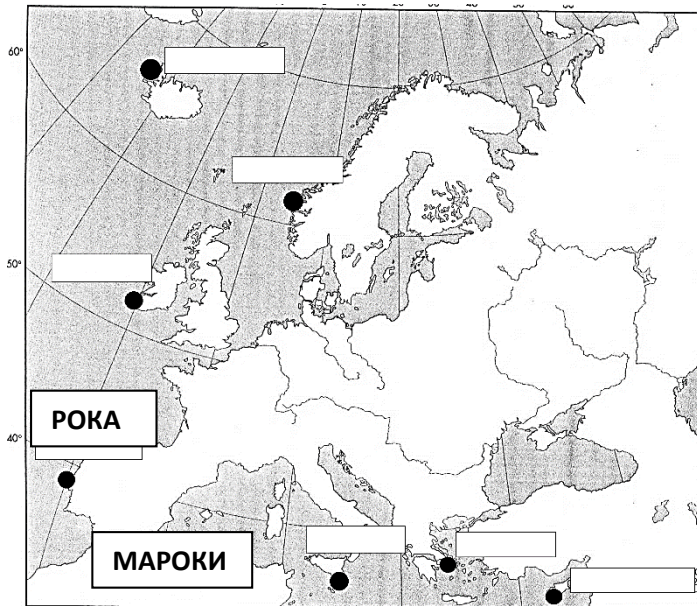




ÇELËSI I TESTIT RAJONAL NGA LËNDA E GJEOGRAFISË PËR KLASËN VIII, viti shkollor 2022/2023

Gjithsej 100 pikë.


1. Nga vendndodhjet e ofruara në hartë, zgjidhni dy, të cilat i referohen pikës më perëndimore dhe jugore të kontinentit të Evropës dhe shkruani emrin e tyre në fushën përkatëse. **2x1=2**



2. Imagjinoni që po lundroni në një anije midis Burgasit dhe Londrës. Plotësoni vendet që duhet të kaloni në udhëtimin tuaj. **8x1=8**

Ju filloni nga porti i Burgasit në bregdetin e **Detit të Zi**, lundroni në jug dhe kaloni përmes ngushticës të Bosforit në të cilin ndodhet qyteti **Stamboll**, pastaj hyni në **Detin Marmara** dhe ju kaloni përmes rrjedhës **Dardanelet**. Më pas futeni në detin Egje, kaloni mes gadishullit më jugor të Greqisë **Peloponezit** dhe ishulli më i madh grek i Kretës dhe ju hyni në Detin Mesdhe. Ju lundroni drejt perëndimit, kaloni **Gjibraltarian** Lundroni dhe tani ndryshoni drejtimin në veri duke lundruar përmes Oqeanit Atlantik. Ju kaloni në veri të Gadishullit Iberik, pastaj kaloni përmes Kanalit Anglez dhe **besuari** Përrua, futesh në grykëderdhjen e lumit **Thames** dhe mbërrini në Londër.

3. Shikoni hartën e Evropës dhe shkruani numrat e formave të tokës të dhëna në fushat e zbrazëta në hartë. **Kini kujdes, më shumë fusha se sa kërkohet shfaqen në hartë. Shkruani çdo term vetëm në një vend në hartë!** **8x1=8**



- 1-grykëderdhje 2-Jilandi 3- Mezeta 4-Etna
 5-Dardanelet 6-delta 7-Aleçi 8-Nordkapi

4. Në vijat e mëposhtme, shkruani lumin më të madh që kalon nëpër ultësirën e dhënë.

6x1=6

Ultësira Pri Kaspikut **Vollga**

Rrafshi Panonian **Danubi**

Andaluzia **Gvadakviri**

Ultësira e Trakisë **Marica**

Lombardia **Po**

Aragonia **Ebro**

5. Nëpër cilat dy shtete kalon lumi Struma?

2x1=2

Bullgaria dhe Greqia

6. Cilat tre shtete në Gadishullin Ballkanik nuk kanë dalje në det?

3x1=3

Serbia, Maqedonia dhe Kosova.

7. Cilat tre popuj në Bosnjë dhe Hercegovinë janë me numër më të madh :

3x1=3

boshnjakët, serbët dhe kroatët.

8. Cilët ishuj në Oqeanin Atlantik i përkasin Portugalisë dhe Spanjës?

3x1=3

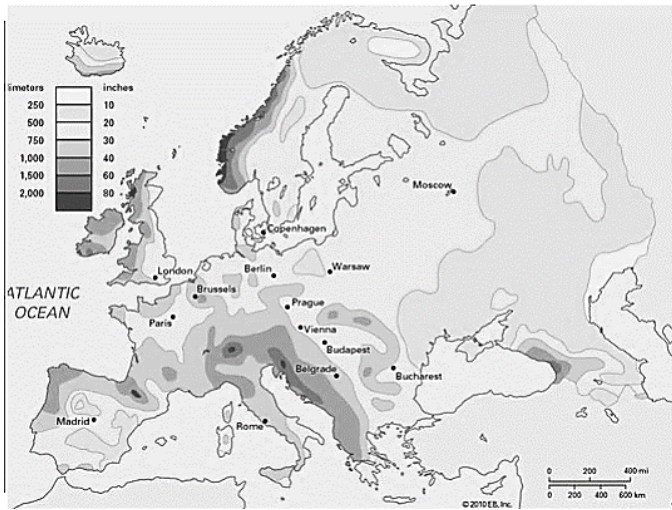
Madeira, Ujdhesat e Gjelbërta dhe Ishujt Kanare.

9. Rrethoni dy kryeqytetet e rajonit të Evropës Jugore, të cilat ndodhen në lartësinë më të ulët mbidetare?

2x1=2

Napoli, Madridi, Durrësi, Athina, Aspiliti, Lisbona, Zagrebi

10. Cilat tre shtete sipas rregullimit shtetëror NUK janë Republika ? **3x1=3**
Spanja, Andorra dhe Vatikani.
11. Rradhiti hapësirat e botës bimore dhe shtazore në zonën e përshtatshme klimatiko-bimore. **7x1=7**
Ultësira e Vllahisë, Toka e Re, Makia, Britania, Tajga, Sardenje, Tundra.
Nënpolare **Toka e Re, Tundra.**
Atlantiku **Britanija.**
Kontinentale **Ultësira e Vllahisë, Taiga.**
Subtropikale **Makia, Sardenjë.**
12. Rradhitni malet dhe ultësirat/luginat në shtetin përkatës ku shtrihen. **6x1=6**
Rilla, Pind, Koritniku, Metohija, Çeljska, Pohorje.
Greqia **Pind**
Bullgaria **Rilla**
Kosova **Metohia**
Sllovenia **Çeljska, Pohorje.**
Serbisë **Koritniku**
13. Në cilat dy shtete nga rajoni i Evropës Jugore, parqet kombëtare zënë sipërfaqen më të madhe me 9,3% apo 7,9% të sipërfaqes totale të vendeve? **2x1=2**
Kosova dhe Mali i Zi
14. Numëroni tre lumenjë në Bosnjë dhe Hercegovinë që i përkasin pellgut të Detit të Zi: **3x1=3**
Sava, Vrbasi, Bosnja, Una, Drina.
15. Rradhiti vendet turistike në vendin ku i përkasin. **10x0.5=5**
Krka, Evbeja, Bledi, Tivati, Zlatibori, Garda, Koepfi, Firenca, Opatija, Parga.
Greqia **Evbaja, Parga.**
Italia **Garda, Firencë.**
Mali i Zi **Tivat**
Kroacia **Krka, Opatija.**
Sllovenia **Bled, Koper.**
Serbisë **Zlatibor.**
16. Shikoni hartën me sasinë e reshjeve në Evropë dhe rrethoni tre zona që kanë sasi të ulëta të reshjeve? **3x1=3**



- a) Jylland **b) Aragoni** c) Dinaridet **d) Krime** e) Irlanda **f) Kola** g) Britania h) Pirenejtë

17. Nëse doni të lundroni nga Liqeni Kaspik në Detin e Zi, cilët dy lumenj dhe një det duhet të kaloni?

3x1=3

Vollga, Doni dhe Deti Azov.

18. Pas numrit të dhënë, shkruani emrin e lumit përkatës të shënuar në hartë.

6x1=6



1 Don 2 Po 3 Garona/Zhironda

4 Rajnageni 5 Vislla 6 Gvadalkivir

19. Rrethoni pas çdo deklaratë të deklaruar

8x1=8

T (e vërtetë) ose G (jo e vërtetë).

Popullsia evropiane ka një shtim të lartë natyror.	T	<u>G</u>
Një nga zonat më të dendura të populluara në Evropë shtrihet rreth lumit Po.	<u>T</u>	G
Një nga zonat më pak të populluara në Evropë është zona e Sarit.	T	<u>G</u>
Baskët i përkasin grupit të popujve rumunë.	T	<u>G</u>
Gjuha finlandeze i përket grupit të gjuhëve gjermane.	T	<u>G</u>
Gjuha katalanase flitet në Spanjë.	<u>T</u>	G
Protestantët janë të përfaqësuar kryesisht në pjesët jugore të Evropës.	T	<u>G</u>
Gjuha sllovene i përket grupit sllavo-jugor.	<u>T</u>	G

20. Radhitni shtetet e Evropës Jugore sipas zonës, nga më i madhi tek më i vogli.

6x1=6

Italia, Serbia, Spanja, Sllovenia, Andorra, Vatikani.

Spanja, Italia, Serbia, Sllovenia, Andorra, Vatikani.

21. Radhitni termat gjeografikë të dhënë në shtetin ku bëjnë pjesë.

12x0.5=6

Šumadija, Istria, Tuzla, Ebro, Vojvodina, Plovdiv, Kanali i Korinit, Gryka e Gjerdapit, Kodra e zhveshur, Kranjska Gora, Neretva, Lombardia.

Serbisë	<u>Shumadija, Vojvodina, gryka e Gjerdapit</u>
Bullgaria	<u>Plovdiv</u>
Greqia	<u>Kanali i Korinit</u>
Kroacia	<u>Istra</u>
Sllovenia	<u>Kranjska Gora</u>
Bosnjë dhe Hercegovinë	<u>Tuzla, Neretva</u>
Italia	<u>Lombardia</u>
Spanja	<u>Ebro</u>
Kosova	<u>Gollo Brdo</u>

22. Shkruani emrat e shteteve fqinje të Kroacisë në hartë?

5x1=5

