



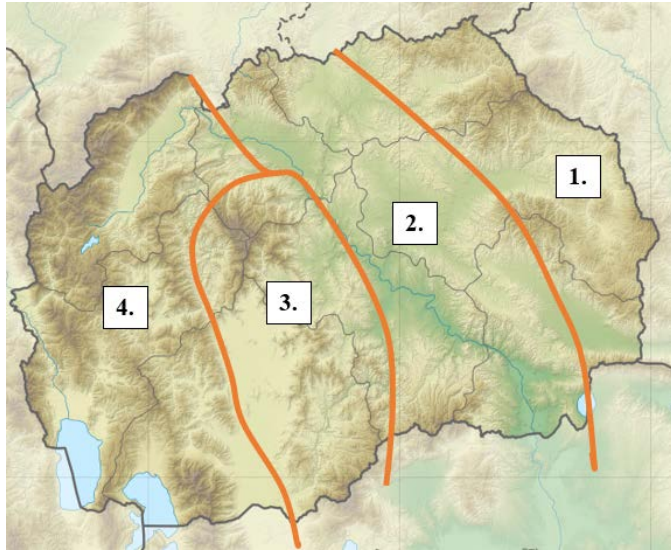
Çelësi i Testit të Konkursit Rajonal në Gjeografi për klasën e VII (e shtatë).

1. Në tabelë shkruani emrat e vendkalimeve kufitare të shënuara në hartë. (çdo përgjigje e saktë është 1 një pikë)



1.	Bllacë	2.	Dellçevë
3.	Qafë Thanë	4.	Bllatë
5.	Megjitlia	6.	Deve Bair
7.	Bogorodica	8.	Tabanovcë
9.	Novo Sello	10.	Dojran

2. Në hartën e zbrazët, ndani ato me vija dhe shënoni zonat e veçanta tektonike në Republikën e Maqedonisë së Veriut. (1. Zona Lindore e Rodopeve; 2. Zona e Vardarit; 3. Zona e Pellagonisë; 4. Zona e Maqedonisë Perëndimore) (çdo përgjigje e saktë vlen 2 dy pikë)



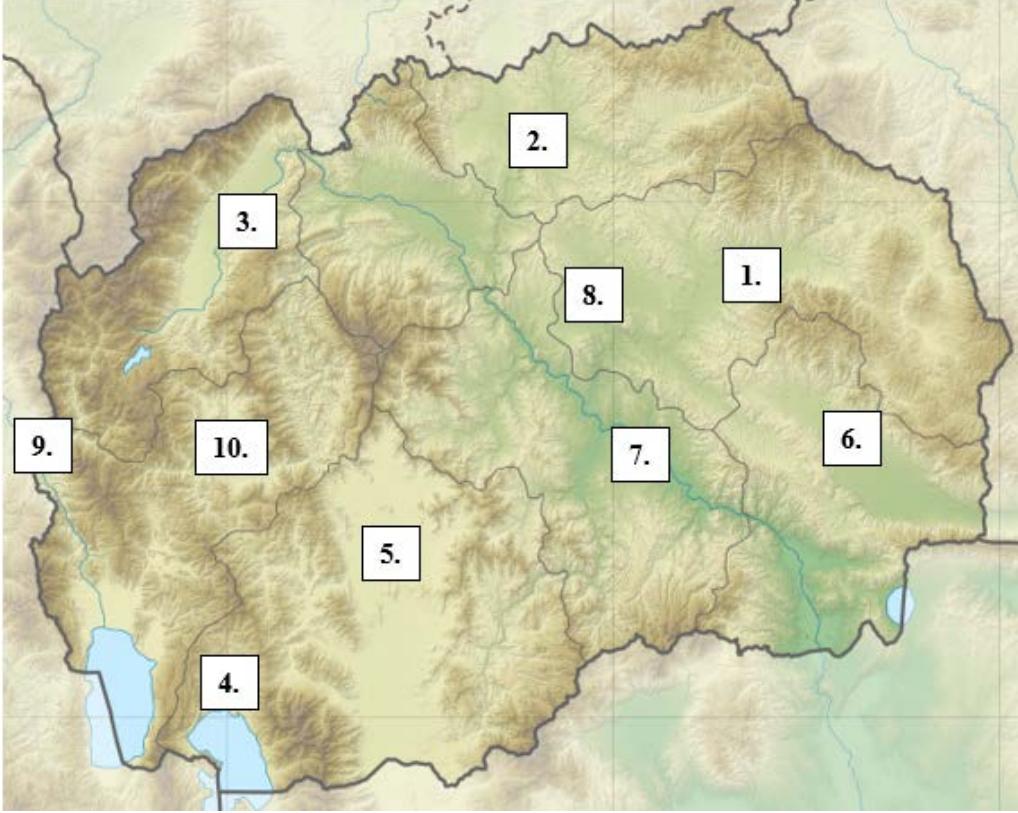
3. Shkruani zonën tektonike të cilës i përket secili nga malet e shënuara. (çdo përgjigje e saktë është 1 një pikë)

Mali	Zonë tektonike
Mali Mokra	Zona e Pellagonisë
Jabllanica	Zona e Maqedonisë Perëndimore
Dobra Voda	Zona e Maqedonisë Perëndimore
Kozhufi	Zona e Vardarit
Vllaina	Zona Lindore e Rodopit
Mali i Zi i Shkupit	Zona e Vardarit
Stogova	Zona e Maqedonisë Perëndimore
Gollaku	Zona Lindore e Rodopit
Ograzhdeni	Zona Lindore e Rodopit
Nixhe me Kozjakun	Zona e Pellagonisë

4. Në hartën e zbrazët (memece) , shënoni luginat e mëposhtme me numrat e duhur:

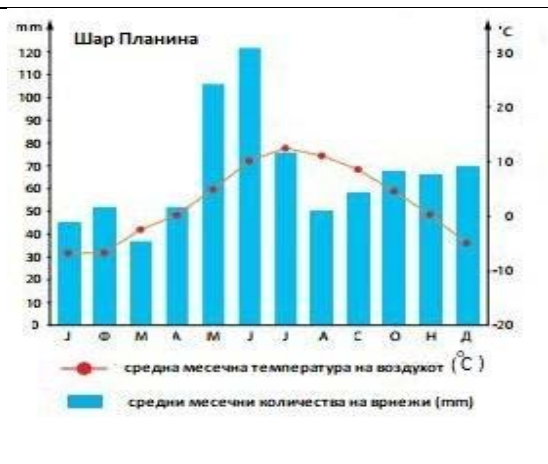
3. Në hartën e zbrazët (memece) , shënoni luginat e mëposhtme me numrat e duhur:

1. Lugina e Koçanit ; 2.L. e Kumanovës; 3. L.e Pollogut ; 4.L. e Prespës; 5.L. e Pellagonisë;
6. L.e Strumicës-Radovishit; 7.L. e Tikveshit; 8. L. e Ovçe Poles ; 9.L. e Dibrës;
10. L. e Kërçovës (çdo përgjigje e saktë është 1 një pikë)



5. Duke përdorur diagramin e klimës së treguar (paraqitja grafike e klimës në një zonë të caktuar) Pergjigju pyetjeve ne vazhdim: (çdo përgjigje e saktë vlen 2 dy pikë)

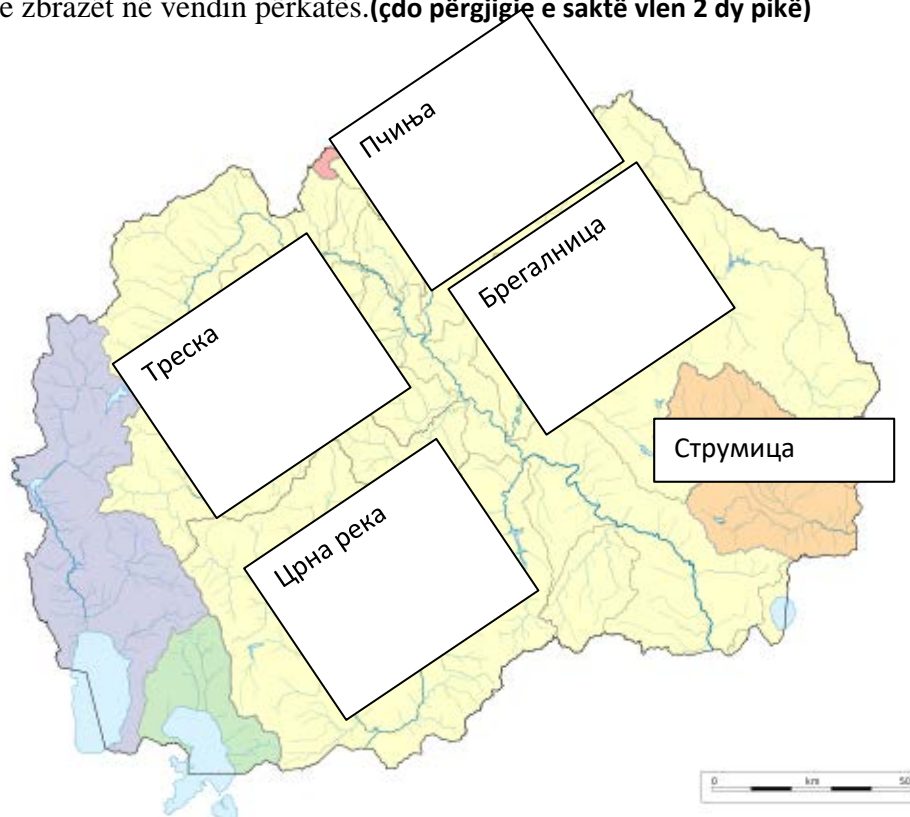
- A) Në cilin muaj është temperatura mesatare mujore maksimale? **korrik**
- B) Sa është temperatura mesatare mujore maksimale? **ndoshta 11 ose 12 është e saktë**
- C) Në cilin muaj është temperatura mesatare minimale mujore? **janar dhe shkurt**
- D) Çfarë lloj klime tregohet në diagramin klimatik? **Malore**
- E) Sa është sasia maksimale mesatare mujore e reshjeve? **120 mm**
- F) Në cilin muaj është sasia minimale mesatare mujore e reshjeve? **marsi**



6. Listoni llojet e përshtatshme të klimës për secilën zonë të dhënë në tabelë. (çdo përgjigje e saktë është 1 një pikë)

Hapësira gjeografike	Lloji i klimës
Lugina e Pollogut	Klima mesatare kontinentale
Lugina e Pellagonisë	Klima mesatare kontinentale
Lugina e Demir Kapisë	Klima mesdhetare e modifikuar (e ndryshuar)
Lugina e Dellçevës	Klima mesatare kontinentale
Lugina e Maleshevisë	Klima mesatare kontinentale
Lugina e Gjevgjelisë	Klima mesdhetare e modifikuar (ndryshuar)
Lugina e Prespës	Klima mesatare kontinentale
Lugina e Vallandovës	Klima mesdhetare e modifikuar (e ndryshuar)
Lugina e Kavadarit	Klima mesatare kontinentale
Lugina e Strumicës	Klima mesdhetare e modifikuar (e ndryshuar)

7. Shkruani emrat e lumenjve në tabelë sipas përshkrimit të dhënë dhe shënojini në hartën e zbrazët në vendin përkatës. (çdo përgjigje e saktë vlen 2 dy pikë)



	Përshkrimi i lumit	Emri i lumit
1.	Ka një gjatësi prej 225 km.	Bregalnica
2.	Ai rrjedh nëpër Kanjonin e gjatë të Shishevës.	Treska
3.	Në Stobi derdhet lumi Vardar.	Crna Reka
4.	Dega e dytë e majtë më e madhe e lumit Vardar.	Pčinja
5.	I takon pellgut të Detit Egje.	Strumica

8. Plotësoni fjalitë e mëposhtme. (çdo përgjigje e saktë është 1 një pikë)

Liçeni i Prespës ndodhet në **jugperëndim** pjesë e Republikës së Maqedonisë së Veriut, në luginën e **Prespës** mes maleve **Galicica** në perëndim dhe **Baba me Pelisterin** në lindje. Ajo gjindet në lartësi mbidetare prej **853 m**. Përfaqshinë një sipërfaqe prej **275 km²** me një thellësi prej përafërsisht **50 m**. Një pjesë më e madhe e liçenit i përket Republikës së Maqedonisë së Veriut ndërsa pjesë më të vogla ndodhen në **Greqi** dhe në **Shqipëri**. Në të gjindet Ishulli **Golem Grad**

9. Në hartën e zbrazët, shkruani emrat e qyteteve të vogla në Republikën e Maqedonisë së Veriut në vendin përkatës.(çdo përgjigje e saktë vlen 2 dy pikë)



10. Përcaktoni termat e mëposhtëm:(çdo përgjigje e saktë vlen 2 dy pikë)

Struktura gjinore **paraqet raportin ndërmjet popullsisë mashkullore dhe femërore të një zone të caktuar.**

Struktura e moshës **paraqet një element demografik nga i cili mund të shihet përfaqësimi i grupmoshave.**

Struktura ekonomike **përfaqëson një element demografik që popullsia e konsideron sipas veprimtarisë dhe aktivitetit të saj.**

Struktura etnike **paraqet perceptimin e përfaqësimit të bashkësive etnike në popullatën e përgjithshme.**